

نام خانوادگی:	نام خانوادگی:	نام خانوادگی:
نام پدر:	نام پدر:	نام پدر:
شماره کلاس:	شماره کلاس:	شماره کلاس:
نام:	اداره کل آموزش و پرورش استان مازندران	تاریخ امتحان: ۹۸/۳/۱
سنوالات ارزشیابی هماهنگ استانی درس مطالعات اجتماعی	سنوالات ارزشیابی هماهنگ استانی درس مطالعات اجتماعی	ساعت شروع: ۱۱ صبح
دانش آموزان مدارس روزانه، بزرگسال، آموزش از راه دور و داوطلبان آزاد	دانش آموزان مدارس روزانه، بزرگسال، آموزش از راه دور و داوطلبان آزاد	مدت امتحان: ۶۰ دقیقه
پایه نهم خرداد ماه ۱۳۹۸ نوبت: صبح	تعداد کل سوالات: ۲۳	تعداد کل صفحه: ۴

یادآوری: دانش آموزان عزیز پاسخ سوالات را با دقت در همین برگه بنویسید.

**(بخش اجباری) دانش آموز عزیز لطفاً به همه سوالات فصل هفتم الی دوازدهم، پاسخ مناسبی دهید.**

۱- صحیح یا غلط بودن عبارات زیر را در ارتباط با انقلاب مشروطه در ایران مشخص کنید.

الف- انقلاب مشروطیت با هدف برقراری حکومت قانون ورهایی از استبداد شکل گرفت.  ص  غ

ب- محمدعلی شاه با تسلیم در برابر خواسته های مردم، فرمان مشروطه را صادر کرد.  ص  غ

پ- در نظام پادشاهی استبدادی قدرت و اختیارات پادشاه بر اساس قانون کاهش می یابد.  ص  غ

۲- در دوره حکومت رضاشاه، چه اقداماتی برای نوسازی ایران به تقلید از اروپا صورت گرفت؟ دو مورد

۳- هریک از ایام زیر، با چه رویداد و مناسبتی در تاریخ انقلاب اسلامی ایران شناخته می شود؟

الف- ۱۹ دی ۱۳۵۶ (.....) ب- ۲۲ بهمن ۱۳۵۷ (.....) پ- ۳۱ شهریور ۱۳۵۹ (.....)

۴- برجسته ترین مخالف تصویب نامه انجمن های ایالتی و ولایتی چه کسی بود؟ دلیل مخالفتش چه بود؟

۵- من چیستم؟ با توجه به درس فرهنگ، تصویر زیر (آرم استاندارد) نشان دهنده کدام مفهوم اجتماعی است؟ کاربرد آن چیست؟



۶- در رابطه با موضوع هویت و فرهنگ پاسخ مناسب دهید.

الف: تصویر روبرو؛ در واقع، پاسخ به کدام پرسش است؟ "کیستی یا چیستی؟"

ب: با دیدن نقشه ایران به یاد کدام عنصر تشکیل دهنده هویت ما می افتید؟

اثر انگشت 

نام خانوادگی:	اداره کل آموزش و پرورش استان مازندران	نام:
نام پدر:	سئوالات ارزشیابی هماهنگ استانی درس مطالعات اجتماعی	تاریخ امتحان: ۹۸/۳/۱
شماره کلاس:	دانش آموزان مدارس روزانه، بزرگسال، آموزش از راه دور و داوطلبان آزاد	ساعت شروع: ۱۱ صبح
	پایه نهم خرداد ۱۳۹۸هـ ق. نوبت: صبح	مدت امتحان: ۶۰ دقیقه
	تعداد کل سوالات: ۲۳	تعداد کل صفحه: ۴

نمره	یادآوری: دانش آموزان عزیز پاسخ سئوالات را با دقت در همین برگه بنویسید.
۰/۵	۷- آپارتمان نشینی چه تغییری در ارزش ها و یا چهارهادر جامعه ی ما ایجاد کرد؟ یک مورد
۱/۵	۸- " نرگس و علی " موافق خانواده ی تک فرزندی هستند و برای آن دلایلی ارائه می دهند. شما برای رد کردن نظر آنها، سه دلیل منطقی و قانع کننده ارائه دهید.
۱	۹- دو مورد از کارکردهای خانواده را نام ببرید .
۱/۵	۱۰- سئوالات جور کردنی : گزینه های مربوط به هم را وصل کنید. (یک مورد از سمت چپ اضافی می باشد). الف- تصویب قانون شهروندی ب- پیشگیری از وقوع جرم پ- اجرای قانون حفاظت از منابع طبیعی ۱- قوه مجریه ۲- قوه مقننه ۳- مجلس خبرگان ۴- قوه قضائیه
۱	۱۱- مالیات چیست؟
۱	۱۲- الف - یکی از عادت های نادرست بعضی از دانش آموزان، مصرف نامناسب و بی رویه کاغذ است. شما دورا هکار مفید برای بهره وری در مصرف کاغذ پیشنهاد کنید.
۱/۵	ب- منظور از بهره وری سبز چیست؟ توضیح دهید.

بسمه تعالی

اداره کل آموزش و پرورش استان مازندران

سنوالات ارزشیابی هماهنگ استانی درس مطالعات اجتماعی

دانش آموزان مدارس روزانه، بزرگسال، آموزش از راه دور و داوطلبان آزاد

پایه نهم خرداد ماه ۱۳۹۸ نوبت: صبح


نام: \_\_\_\_\_ نام خانوادگی: \_\_\_\_\_ نام پدر: \_\_\_\_\_ شماره کلاس: \_\_\_\_\_

تاریخ امتحان: ۹۸/۳/۱ ساعت شروع: ۱۱ صبح مدت امتحان: ۶۰ دقیقه تعداد کل سوالات: ۲۳ تعداد کل صفحه: ۴

یادآوری: دانش آموزان عزیز پاسخ سوالات را با دقت در همین برگه بنویسید.

فصل ۱	فصل ۲	فصل ۳	فصل ۴	فصل ۵	فصل ۶	


۱۳- بعد از سیاره تیر در منظومه شمسی کدام سیارات قرار دارند؟ در نمودار زیر به ترتیب بنویسید.

۱ 

۱۴- با مشاهده تصاویر زیر پیرامون انواع حرکات زمین، به سوال مطرح شده پاسخ مناسب دهید.

۱/۵ یک فصل

کدام تصویر (سمت چپ یا راست)، حرکت انتقالی زمین را نشان می دهد؟ دو نتیجه ای این حرکت را بنویسید.



۱۵- از نتایج حرکت ورقه های پوسته زمین، دو مورد را بنویسید.

۱۶- دو عامل (طبیعی) موثر بر آب و هوای جهان را نام ببرید.

۱۷- محل تلاقی آب های سرد و گرم اقیانوس ها مانند: شرق ژاپن، دارای چه اهمیت اقتصادی می باشد؟

۱۸- با توجه به فصل زیست کره، به پرسش های مطرح شده پاسخ مناسبی دهید.

الف- در شمال زیست بوم تایگا چه نوع زیست بومی وجود دارد؟

ب- هر یک از گونه های گیاهی و جانوری زیر مربوط به چه زیست بومی هستند؟

۱- زرافه: (.....) ۲- بامبو (.....)


ب- دو پیشنهاد برای حفظ گونه های نادر جانوری مثل: ببر و فیل ارائه دهید.

۷/۵ جمع نمره این صفحه «دامه ی سوالات در صفحه ی چهارم»



بسمه تعالی  
 اداره کل آموزش و پرورش استان مازندران  
 سنوالات ارزشیابی هماهنگ استانی درس مطالعات اجتماعی  
 دانش آموزان مدارس روزانه، بزرگسال، آموزش از راه دور و داوطلبان آزاد  
 پایه نهم خرداد ماه ۱۳۹۸ نوبت: صبح  
 تاریخ امتحان: ۹۸/۳/۱  
 ساعت شروع: ۱۱ صبح  
 مدت امتحان: ۶۰ دقیقه  
 تعداد کل سوالات: ۲۳  
 تعداد کل صفحه: ۴

یادآوری: دانش آموزان عزیز پاسخ سوالات را با دقت در همین برگه بنویسید.  
 نمره

۱	۱۹- منظور از مهاجرت اجباری چیست؟			
۱/۵	۲۰- سه مورد از "شاخص هاوملاک های توسعه انسانی" را نام ببرید.			
۱	۲۱- پیرامون حکومت صفویه به پرسش های زیر پاسخ مناسبی دهید. الف- مهم ترین دشمنان صفویان را با توجه به نقشه عصر صفوی مشخص کنید. ۱- شماره یک ؟ ۲- شماره دو ؟			
۱/۵	 <p>ب- سه علت گسترش تجارت در دوره صفوی را بنویسید.</p>			
۱	۲۲- به کمک موارد داخل پرانتز، نمودار خط زمان عمر قاجاریه را به ترتیب زمان رویداد، بطور مناسب کامل کنید. (یک مورد اضافه و نامناسب است). (فتح دهلی - واگذاری بهره برداری از شیلات به بیگانگان - عهدنامه گلستان)			
	<table border="1" style="width: 100%; text-align: center;"> <tr> <td style="width: 33%;"></td> <td style="width: 33%;">تاسیس مدرسه دارالفنون</td> <td style="width: 33%;">نهضت تنباکو</td> </tr> </table>		تاسیس مدرسه دارالفنون	نهضت تنباکو
	تاسیس مدرسه دارالفنون	نهضت تنباکو		
۱/۵	۲۳- به سوالات چهارگزینه ای زیر پاسخ مناسبی دهید. الف- انقلاب صنعتی اروپا از کدام کشور آغاز شد؟ الف- فرانسه <input type="checkbox"/> ب- آلمان <input type="checkbox"/> پ- انگلستان <input type="checkbox"/> ت- ایتالیا <input type="checkbox"/> ب- کدام پادشاه به صلح، آسایش و آرامش عمومی اهمیت می داد؟ الف- نادر <input type="checkbox"/> ب- کریم خان <input type="checkbox"/> پ- آقامحمدخان <input type="checkbox"/> ت- ناصرالدین شاه <input type="checkbox"/> پ- مهمترین مستعمره انگلستان هم زمان با دوره قاجاریه، کدام کشور زیر بوده است؟ الف- مصر <input type="checkbox"/> ب- ایران <input type="checkbox"/> پ- عربستان <input type="checkbox"/> ت- هند <input type="checkbox"/>			
۲۰	جمع نمره موفق باشید.			